

PHYSIQUE I

Calculatrices autorisées.

Détection pyroélectrique d'interférences d'ondes thermiques

Aucune connaissance concernant les ondes thermiques n'est nécessaire à la résolution du problème. Les résultats utiles sont établis en cours d'épreuve.

Des expériences récentes d'interférométrie d'ondes thermiques ont permis d'étudier de manière fine les propriétés thermiques des gaz. Le but de ce problème est d'analyser de façon détaillée une telle expérience.

La Partie I concerne l'étude de la diffusion thermique en régime stationnaire, puis en régime sinusoïdal forcé. Le concept d'onde thermique est alors introduit. La Partie II propose une étude expérimentale de l'équation de diffusion à partir d'un modèle électrocinétique discret. Les capteurs pyroélectriques étudiés dans la Partie III sont des détecteurs très sensibles, développés depuis une trentaine d'années. Ils constituent une pièce maîtresse dans toutes les expériences faisant intervenir des flux lumineux modulés. La Partie IV précise enfin le protocole expérimental de l'expérience d'interférométrie multiple d'ondes thermiques (Thermal Waves Interferometry).

Partie I - Étude de la diffusion thermique

On cherche à étudier le phénomène de diffusion thermique dans une barre cylindrique de cuivre, de diamètre $d = 15,0 \text{ mm}$ et de conductivité thermique λ . À cet effet, on creuse une cavité à l'extrémité de la barre pour y placer

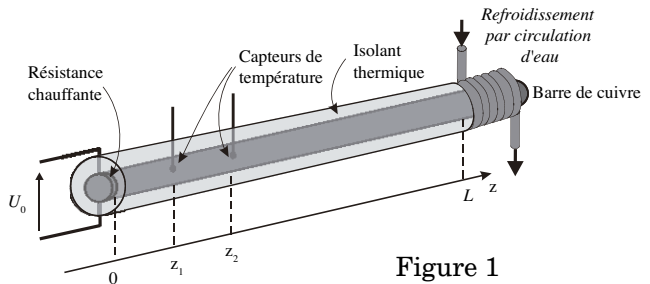


Figure 1

une résistance chauffante $R_{ch} = 8,00 \Omega$. Cette résistance est alimentée par un générateur délivrant une tension continue $U_0 = 6,00 \text{ V}$. Afin de rendre les pertes thermiques par la face latérale du cylindre négligeables, le barreau de cuivre est isolé latéralement par une matière plastique de conductivité thermique suffisamment faible par rapport à celle du cuivre. La mesure de température se fait par l'intermédiaire de petits capteurs logés dans des puits creusés latéralement en divers points du cylindre conducteur. Un dispositif de refroidissement par circulation d'eau est placé à l'autre extrémité de la barre de telle sorte que la température du cuivre y soit égale à $20,0^\circ \text{ C}$.

Filière PC

I.A - Étude du régime stationnaire

On se place tout d'abord en régime stationnaire et on suppose que la température, considérée uniforme dans une section droite de la barre, ne dépend que de la position z .

I.A.1) Quel est a priori la direction et le sens du vecteur $\overrightarrow{\text{grad}T}$? Rappeler la loi de Fourier donnant l'expression du vecteur densité de courant thermique $\overrightarrow{j_Q}$. Préciser la signification des différents termes ainsi que leur dimension respective.

I.A.2) Exprimer la puissance fournie par l'alimentation continue à la résistance chauffante. En supposant que cette puissance est intégralement transférée à la barre située dans la partie $z > 0$, exprimer $\overrightarrow{j_Q}(z = 0)$ en fonction de R_{ch} , U_0 et d .

Évolution de la température dans la barre

I.A.3) Montrer que $\overrightarrow{j_Q}$ est uniforme dans la barre. En déduire l'équation différentielle vérifiée par la température $T(z)$.

I.A.4) Exprimer littéralement $T(z)$ en fonction des données ci-dessus et de $T(L)$. Les deux capteurs de température placés en $z_1 = 8$ cm et $z_2 = 16$ cm indiquent $T_{p1} = 46,4^\circ\text{C}$ et $T_{p2} = 41,4^\circ\text{C}$. Donner l'expression de la conductivité thermique du cuivre λ et calculer sa valeur numérique.

I.A.5) Le refroidissement à l'extrémité de la barre est assuré par une circulation d'eau de débit volumique d_v . En négligeant les fuites thermiques latérales, exprimer grâce à un raisonnement simple la variation de température de l'eau lors de la traversée du système de refroidissement. On pourra introduire la masse volumique et la capacité thermique massique de l'eau.

I.B - Équation d'évolution de la température en régime variable

Le générateur délivre maintenant une tension $U(t)$, ce qui entraîne une variation temporelle de la température en chaque point du barreau. Néanmoins, on conserve l'hypothèse d'uniformité de la température dans une section droite de la barre, ce qui permet d'écrire la température en un point sous la forme $T(z, t)$.

Analyse qualitative

I.B.1) D'une manière générale, le phénomène de diffusion thermique ne peut faire intervenir que les caractéristiques pertinentes du matériau, à savoir la

conductivité thermique λ , la capacité thermique massique à pression constante $c_p = 380 \text{ J} \cdot \text{kg}^{-1} \cdot \text{K}^{-1}$ et la masse volumique $\rho = 8870 \text{ kg} \cdot \text{m}^{-3}$. Montrer à l'aide d'une analyse dimensionnelle, qu'il est possible de construire un coefficient de diffusion D exprimé en $\text{m}^2 \cdot \text{s}^{-1}$ à partir de ces trois grandeurs.

I.B.2) Le coefficient de diffusion D peut s'exprimer directement en fonction de la résistance thermique linéique r_{th} (résistance thermique par unité de longueur de la barre) et de la capacité thermique linéique c_{th} . Exprimer r_{th} et c_{th} et donner l'expression de D faisant intervenir ces deux grandeurs. Pour le cuivre, la valeur numérique du coefficient de diffusion D est $D = 1,19 \cdot 10^{-4} \text{ m}^2 \cdot \text{s}^{-1}$.

I.B.3) Quel est l'ordre de grandeur Δt , de la durée nécessaire pour qu'une modification brutale de la température en un point d'abscisse z_1 atteigne un point d'abscisse $z_2 = z_1 + \Delta z$? La barre de cuivre utilisée a une longueur $L = 0,5 \text{ m}$. Donner une estimation de la durée du régime transitoire précédant le régime stationnaire étudié au paragraphe I.A. Quelles conséquences pratiques peut-on en déduire?

Équation de la chaleur

I.B.4) Établir l'équation de diffusion thermique, dite « équation de la chaleur », à partir d'un bilan énergétique effectué pour la portion de barre comprise entre z et $z + dz$.

I.B.5) Pourquoi peut-on dire que le phénomène de diffusion thermique est irréversible?

I.C - « Ondes thermiques »

Dans cette partie, la tension délivrée par le générateur est sinusoïdale : $U(t) = U_0 \sqrt{2} \cos(\Omega t)$. Dans ce cas, en régime périodique établi, la réponse de chaque capteur oscille autour d'une valeur moyenne spécifique à chacun d'entre eux : $T(z, t) = T_p(z) + \theta_m(z) \cos(\omega t + \varphi(z))$.

Par exemple, la figure 2 représente les graphes des fonctions $T(z_1, t)$ et $T(z_2, t)$ avec $z_1 = 8 \text{ cm}$ et $z_2 = 16 \text{ cm}$.

I.C.1) Mesurer sur cette figure les amplitudes $\theta_m(z_1)$ et $\theta_m(z_2)$ ainsi que le déphasage $\varphi(z_2) - \varphi(z_1)$ exprimé en radians.

I.C.2) Mettre la puissance électrique dissipée dans la résistance chauffante sous la forme $p(t) = P_0 + P_0 \cos(\omega t)$ en explicitant P_0 en fonction de U_0 et R_{ch} . Relier ω et Ω . Quelle est la fréquence de la tension aux bornes du générateur dans l'expérience dont les résultats sont présentés en figure 2?

I.C.3) Justifier que $\theta(z, t) = \theta_m(z) \cos(\omega t + \varphi(z))$ vérifie l'équation différentielle de la diffusion thermique.

Afin de déterminer les fonctions $\theta_m(z)$ et $\varphi(z)$, on utilise la représentation complexe pour $\theta(z, t)$ en posant $\underline{\theta}(z, t) = A \exp(j(\omega t - \underline{K}z))$.

Écrire l'équation vérifiée par le nombre complexe \underline{K} et montrer qu'il peut se mettre sous la forme

$$\underline{K} = \varepsilon \frac{1-j}{\delta} \text{ avec } \varepsilon = \pm 1.$$

Exprimer δ en fonction de λ , ρ , c_p , ω puis de r_{th} , c_{th} , ω .

I.C.4) Préciser la valeur de ε sachant que la barre de cuivre peut être considérée comme semi-infinie pour le signal sinusoïdal. En déduire les expressions de $\theta_m(z)$ et $\varphi(z)$. Une longueur de 50 cm vous semble-t-elle suffisante pour que cette approximation soit valable ?

I.C.5) Déterminer à partir des résultats expérimentaux de la figure 2, la valeur numérique de δ de deux manières différentes.

I.C.6) On utilise souvent le terme « ondes thermiques » à propos de ce type d'expérience. Quels adjectifs utiliseriez-vous pour caractériser cette « onde » ?

Evolution des températures en deux points de la barre

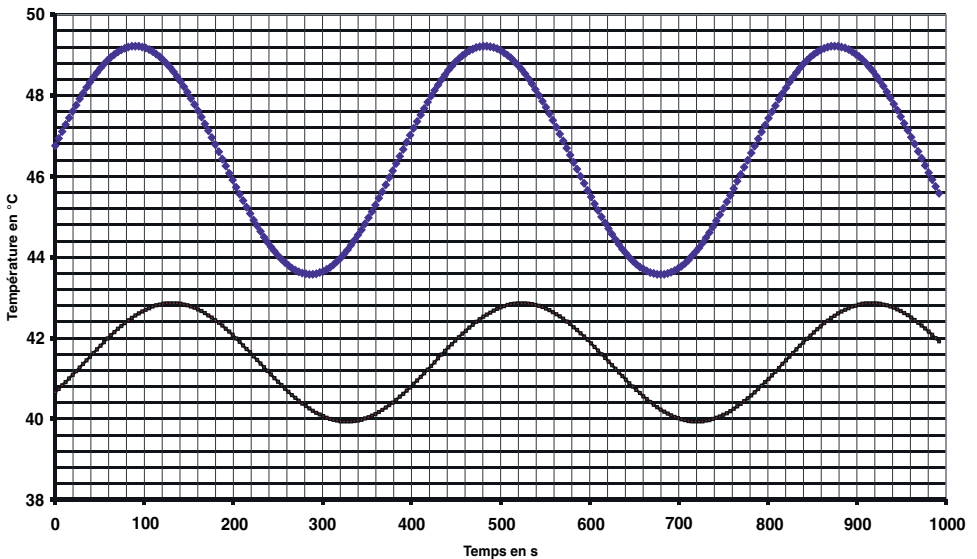


Figure 2 : températures en deux points de la barre

Partie II - Analogie électrocinétique et discrétisation de l'équation de diffusion

Les ondes thermiques abordées dans la section I.C peuvent être étudiées expérimentalement sur un modèle électrocinétique discret, facilement réalisable dans le laboratoire de votre lycée. On considère tout d'abord une chaîne infinie de cellules, associant chacune un conducteur ohmique de résistance R et un condensateur de capacité C . Cette ligne est alimentée par un générateur idéal de tension sinusoïdale de force électromotrice $e(t) = U_0 \cos \omega t$. En régime sinusoïdal forcé, la tension aux bornes du $n^{\text{ième}}$ condensateur est de la forme $u_n(t) = U_n \cos(\omega t + \varphi_n)$, représentée en notation complexe par \underline{u}_n .

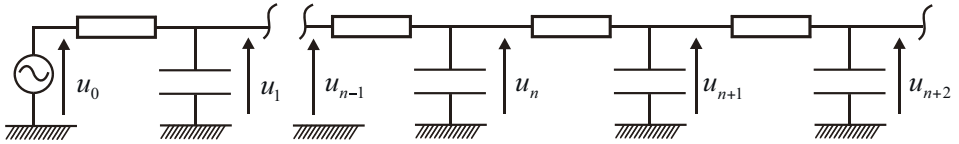


Figure 3

II.A - Chaîne de cellules RC en régime sinusoïdal forcé

II.A.1) Établir la relation de récurrence liant les amplitudes complexes \underline{u}_n des diverses tensions aux bornes des condensateurs. On pourra utiliser la loi des nœuds exprimée à l'aide des tensions.

II.A.2) On cherche une solution de la forme $\underline{u}_n = \underline{k}^n \underline{u}_0$.

Montrer que de telles solutions existent si \underline{k} vérifie une condition à expliciter.

II.A.3) On se place dans l'hypothèse $RC\omega \ll 1$. Montrer que $\underline{k} \approx 1 \pm (1 + j)\sqrt{RC\omega}/2$ au deuxième ordre près en $\sqrt{RC\omega}$.

II.A.4) Interpréter physiquement le caractère complexe de \underline{k} . Déterminer $|\underline{k}|$ au même ordre d'approximation que précédemment. Lever alors l'indétermination de signe dans l'expression de \underline{k} .

II.B - Choix du nombre de cellules

II.B.1) Comme $RC\omega \ll 1$, $|\underline{k}|$ est proche de l'unité. Montrer que l'amplitude U_n de $u_n(t)$ présente alors une décroissance quasi exponentielle du type $U_n/U_0 \approx \exp(-n/n_0)$. Exprimer n_0 .

II.B.2) En pratique, on peut se contenter d'un nombre fini de cellules électrocinétiques. Combien de cellules faut-il prendre, à R , C et f fixés, pour que l'on puisse considérer la chaîne ci-dessus comme infinie ?

II.C - Validation expérimentale

Le tableau ci-dessous consigne des résultats expérimentaux à R et C fixés. On cherche à savoir si ces données sont modélisables sous la forme $n_{0\text{exp}} = Af^s$:

Fréquence f	200	350	500	650
$n_{0\text{exp}}$	4,0	3,0	2,5	2,2

II.C.1) À l'aide d'une représentation graphique simple, montrer que le modèle proposé est en accord avec les données expérimentales. Estimer la valeur de s . Comparer aux résultats de la question II.B.1.

II.C.2) Sachant que $R = 1,0 \text{ k}\Omega$, calculer la valeur numérique de la capacité des condensateurs utilisés.

II.D - Discrétisation de l'équation de diffusion

Les condensateurs sont repérés par leur position $x_n = na$ où a est la taille caractéristique d'une cellule. On introduit une fonction $u(x, t)$, des variables x et t , telle que la tension $u_n(t)$ (non nécessairement sinusoïdale) aux bornes du $n^{\text{ième}}$ condensateur se note $u_n(t) = u(na, t) = u(x_n, t)$.

II.D.1) On suppose que la variation spatiale de la fonction $u(x, t)$ est petite sur une échelle de distance de l'ordre de a . Montrer alors que $u(x, t)$ vérifie l'équation différentielle

$$\frac{\partial}{\partial t}u(x, t) = \frac{1}{rc} \frac{\partial^2 u}{\partial x^2}.$$

Préciser l'expression du produit rc en fonction de R , C et a , ainsi que son unité.

II.D.2) On désire construire une analogie entre la diffusion thermique dans la barre isolée latéralement (étudiée dans la Partie I) et la propagation de signaux électriques dans la chaîne de composants électriques abordée dans cette seconde partie du problème. Reproduire et compléter sur votre copie le tableau ci-dessous qui regroupe les grandeurs physiques analogues.

Thermique	$T(x, t) - T_0$			ρc_p		δ
Électrocinétique		$\frac{u_{n+1} - u_n}{R}$	rc		R	

II.D.3) Soit la grandeur $(u_{n+1} - u_n)^2 / (RT)$, où T désigne la température de la pièce où a lieu l'expérience. Cette grandeur possède-t-elle un équivalent dans le cas de l'expérience thermique ? Quel rapprochement peut-on faire avec la question I.B.5 ?

II.D.4) Proposer, sans justification, un schéma du montage à réaliser pour simuler les phénomènes thermiques dans une barre présentant des pertes ther-

miques par la surface latérale. La température extérieure est identique à la température à l'extrémité du barreau.